





اكتب رمز العدد :


○ 

○ 

○ 

○ 

○ 

○ 

الاسم :

اوراق عمل حصة مساندة (2)

وزارة التربية .

للسف الاول

منطقة مبارك الكبير التعليمية

مدرسة خالد المسعود أ. بنين .

ضع دائرة على العدد المطلوب:

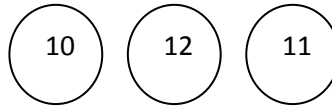
| | | | | | | | |
|----|---|----|----|----|---|---|-----|
| | 5 | 12 | 3 | | 4 | 7 | 2 |
| 9 | | | 8 | | | | 4 9 |
| | | 7 | | | | 9 | |
| 9 | 6 | | 11 | 5 | | | 9 |
| 11 | | 12 | 6 | 10 | | | 5 |
| | | | | | | | 7 |
| | 8 | | 7 | 4 | 9 | | 6 |
| | 9 | 7 | 5 | 1 | | 3 | |
| | | | | | | | 7 4 |
| 6 | 9 | | 7 | 9 | 6 | | 8 |
| 2 | | 12 | 5 | 6 | | 3 | 9 |

ارسم 12 شينا ::

اكتب الاعداد من 1 ال 12


| | | | | | | | | | | | |
|--|--|--|--|--|--|--|--|--|--|--|--|
| | | | | | | | | | | | |
|--|--|--|--|--|--|--|--|--|--|--|--|

حوظ العدد المطلوب :



| | | | | |
|---|---|---|---|---|
| ○ | ○ | ○ | ○ | ○ |
| ○ | ○ | ○ | ○ | ○ |

اكتب رمز العدد ثم حوظ العدد الاكبر :





أي العددين اقل :



رئيسة القسم : لطيفة ملك

اعداد المعلمة : هدى مجدي

مديرة المدسة : أ. فاطمة بدران